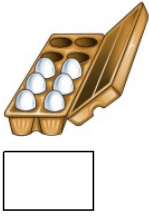



Das kann ich schon allein!

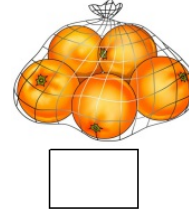


Zähle und schreibe die richtige Zahl auf.














Ergänze die fehlenden Zahlen.

— — 7
 — 5 —
 — 9 —
 — 1 —
 — 4 —
 — 8 —
 — 6 —
 — 3 —

Vergleiche.

| | | |
|---|--|---|
| 9 | | 7 |
| 6 | | 6 |
| 2 | | 4 |
| 5 | | 9 |
| 0 | | 1 |
| 4 | | 3 |

| | | | |
|---|---|--|---|
| 1 | 0 | | 9 |
| | 3 | | 3 |
| | 7 | | 2 |
| | 4 | | 4 |
| | 6 | | 4 |
| | 8 | | 9 |

| | | |
|---|--|---|
| 1 | | 3 |
| 5 | | 7 |
| 7 | | 4 |
| 3 | | 9 |
| 2 | | 2 |
| 9 | | 0 |

Vorgänger - Nachfolger



| | | |
|--|---|--|
| | 7 | |
|--|---|--|

| | | |
|--|--|---|
| | | 6 |
|--|--|---|

| | | | |
|--|--|---|--|
| | | 5 | |
|--|--|---|--|

| | | |
|--|--|---|
| | | 3 |
|--|--|---|

| | | |
|--|---|--|
| | 4 | |
|--|---|--|

| | | | |
|--|--|---|--|
| | | 8 | |
|--|--|---|--|


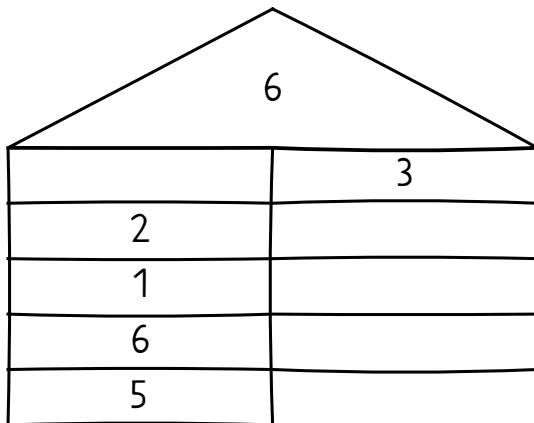
| | | |
|--|---|--|
| | 5 | |
|--|---|--|

| | | | |
|--|--|---|--|
| | | 6 | |
|--|--|---|--|

| | | | |
|--|--|---|--|
| | | 9 | |
|--|--|---|--|

| | | | |
|--|---|--|--|
| | 4 | | |
|--|---|--|--|

Zahlenhäuser



Zahlenreihen

